

होमी भाभा विज्ञान शिक्षण केंद्र
(टाटा मूलभूत संशोधन संस्था)
वि. ना. पुरव मार्ग, मानखुर्द, मुंबई ४०००८८
खगोलशास्त्र शिक्षण उपक्रम

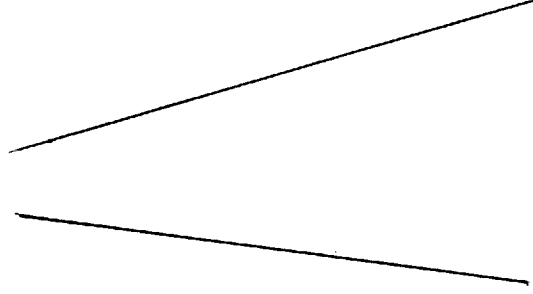
प्रश्न-संच - १
ऑगस्ट २००७

नाव:
शाळेचे नाव:

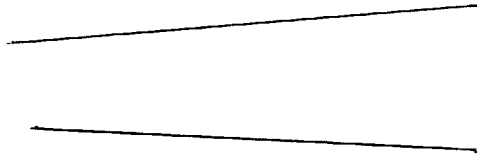
इयत्ता ८ वी.
दिनांक:

१) खालील रेषामधील कोन मोजून कोनाचे माप लिहा:


a)



b)



c)



d)

